



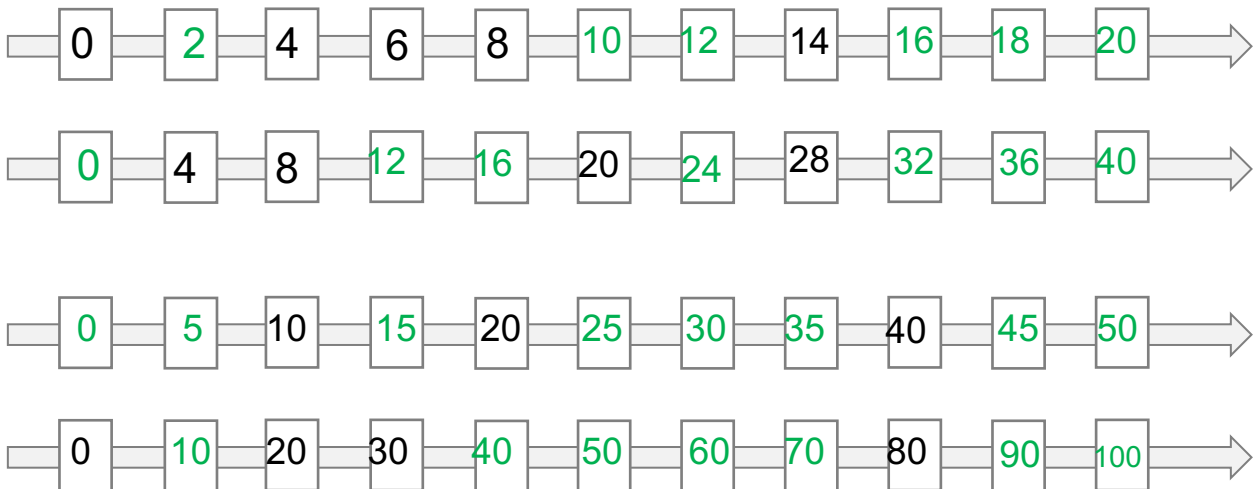
Prénom &amp; Nom :

Date :


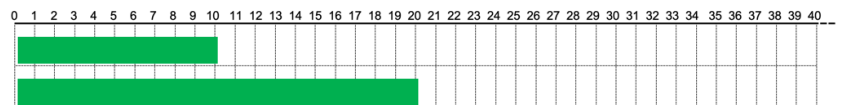
je me réentraîne T4

# Les tables par 2, 4, 5 et 10

## ① COMPLETE les cases blanches.



## ② COLORIE pour obtenir...

2 fois la bandelette 3 ( $2 \times 3$ )4 fois la bandelette 3 ( $4 \times 3$ )2 fois la bandelette 5 ( $2 \times 5$ )4 fois la bandelette 5 ( $4 \times 5$ )

## ③ COMPLETE les cases le plus vite possible.

	2		4		8		10		5
2 x	4	2 x	8	2 x	16	2 x	20	2 x	10
4 x	8	4 x	16	4 x	32	4 x	40	4 x	20

	3		6		9		7		0
5 x	15	5 x	30	5 x	45	5 x	35	5 x	0
10 x	30	10 x	60	10 x	90	10 x	70	10 x	0

## ④ RESOUS.

Ma voisine a 6 chiens et 4 perroquets.

Combien y-a-t-il de pattes en tout ?

Il y a 32 pattes.



J'écris l'opération

$$\begin{aligned}(6 \times 4) + (4 \times 2) \\ = 24 + 8 \\ = 32\end{aligned}$$

